

同一卷® 上分 单元滚动 双测卷

同步,进一步!

中国历史

八 年级 下册

主编 一早

- | | | |
|----|-----|----------------|
| 上分 | 单元卷 | 就这样单单轻轻过。 |
| 上分 | 月考卷 | 月月考,月月好。 |
| 上分 | 期中卷 | 期待中,成功已走过一半。 |
| 上分 | 专题卷 | 专题有专攻,我能! |
| 上分 | 期末卷 | 从最好的结束开动最好的开始。 |

西安出版社



专配 **部编本** 教科书使用

同一卷®上分
单元滚动
双测卷
同步,进一步!

中国历史
八 年级 下册

西安出版社

中国历史
八 年级 下册

目 录

同一卷®上分
单元滚动
双测卷

○	第一单元	根本卷	1—1	上分答案	/ 1
	第一单元	上分卷	2—1	上分答案	/ 1
○	第二单元	根本卷	3—1	上分答案	/ 1
	第二单元	上分卷	4—1	上分答案	/ 2
月	第一次	月考卷	5—1	上分答案	/ 2
○	第三单元	根本卷	6—1	上分答案	/ 2
	第三单元	上分卷	7—1	上分答案	/ 3
中	第二学期期中	准考卷	8—1	上分答案	/ 3
	第二学期期中	上分卷	9—1	上分答案	/ 4
○	第四单元	根本卷	10—1	上分答案	/ 4
	第四单元	上分卷	11—1	上分答案	/ 4
○	第五单元	根本卷	12—1	上分答案	/ 5
	第五单元	上分卷	13—1	上分答案	/ 5
月	第二次	月考卷	14—1	上分答案	/ 5
○	第六单元	根本卷	15—1	上分答案	/ 6
	第六单元	上分卷	16—1	上分答案	/ 6
专	专题一	“三农”问题	17—1	上分答案	/ 6
	专题二	中华民族伟大复兴	18—1	上分答案	/ 7
	专题三	祖国统一与外交成就	19—1	上分答案	/ 7
末	第二学期期末	准考卷	20—1	上分答案	/ 7
	第二学期期末	上分卷	21—1	上分答案	/ 8

编写说明



中国历史

部编本教科书，是当代教材研究开发的最新成果。我们，坚持一线教学和创新教研双向互动的教育工作者，除了拥抱，更多的是探索和践行，以“同一卷”的名义，和部编本教科书同心同行，研创了测试卷生态体系——单元滚动双测卷。

我们“忠实于部编本教科书”

部编本教科书，其编写立意“同一”于社会主义核心价值观，其育人目标“同一”于中国学生发展核心素养。这也正是我们多年来所一贯遵循和致力坚守的。部编本教科书的编写，历经调研讨论、试教试用、建议反馈等诸多环节，凝聚着教材专家、教科研工作者和一线名师的心血。我们，就是以各种方式参与其中的“同行者”。

“同心”是为了“同行”，“同行”是为了“忠实”。唯有“忠实”，才能在《同一卷·上分单元滚动双测卷》的编制中不偏离、不走样，“同一”而合辙。

我们“创建以单元为主线的滚动双测试体系”

教学实践证明，自主学习是学习的核心，而作业法是自主学习的最有效方式。现代教学的组织形式是主题单元式的，单元作业——测试就成了自主学习的焦点。

《同一卷·单元滚动双测卷》是一个滚动运行的自组织体系。

- | | | |
|-----------|------------|-----------------------------------|
| 上分 | 单元卷 | 作为基层单位，“根本卷”落实单元知识，“上分卷”提升考试竞技能力。 |
| 上分 | 月考卷 | 再回头，温故知新，以达到巩固提高。 |
| 上分 | 期中卷 | 为学校期中考试而研创，滚动积累至此，知识技能见长。 |
| 上分 | 专题卷 | 以试题板块为单位编制高质量的分项专题，做到专题专攻。 |
| 上分 | 期末卷 | 为学校期末考试而研创，螺旋上升，水到渠成，完美收官。 |

五部分结构有点有面，相互照应，环环紧扣，搭建成了一个严谨的作业法——滚动式、双测式生态体系，全息课标，全等课本，保障获得国家课程学业的全胜。

在《同一卷·上分单元滚动双测卷》里，让我们一起和部编本教科书同心同行。同步，进一步！

中国历史(八年级下册)

第一单元 根本卷

(满分 100 分,考试时间 45 分钟)

题号	一	二	总分
得分			

第 I 卷 选择题(60 分)

得分	评卷人

一、单项选择题(每小题 3 分,共 60 分)
(在每小题给出的四个选项中,只有一项最符合题目要求。)

题号	1	2	3	4	5	6	7	8	9	10
选项										
题号	11	12	13	14	15	16	17	18	19	20
选项										

1. 列宁说:“爱国主义就是千百年来形成的对自己祖国最崇敬的心情。”升国旗、唱国歌是爱国主义教育的重要内容,1949 年召开的中国人民政治协商会议第一届全体会议决定中华人民共和国的代国歌是
A. 《铁蹄下的歌女》 B. 《黄河大合唱》
C. 《毕业歌》 D. 《义勇军进行曲》
2. 王爷爷是中国人民政治协商会议第一届全体会议的代表,他参与了会议通过的所有文件和决定的表决。下列说法中,属于这些文件和决定的是
①《中国人民政治协商会议共同纲领》 ②以五星红旗为国旗
③建立人民英雄纪念碑 ④任命周恩来为政务院总理
A. ①②③ B. ②③④ C. ①②④ D. ①③④
3. 中国共产党领导人民经过二十八年艰苦卓绝的斗争,终于取得了新民主主义革命的伟大胜利,使中国真正成为独立自主的国家。这里的“二十八年”是指
A. 1842—1870 年 B. 1911—1939 年
C. 1919—1947 年 D. 1921—1949 年
4. 毛泽东在 1949 年致信宋庆龄说:“新的政治协商会议在华北召开,中国人民革命历尽艰辛,中山先生遗志迄今始告实现。”下列说法中,属于这一年实现的孙中山的遗志的是
①推翻封建帝制,实现历史巨变 ②推翻帝国主义势力,取得民族独立
③建立民主政权,保障民主权利 ④确立社会主义制度,实现民生幸福
A. ①②③ B. ②③④ C. ②③ D. ③④

5. 下图所对应的历史事件“开辟了中国历史新纪元”。对于“新纪元”,下列理解正确的是

- A. 彻底摧毁了我国存在两千多年的封建土地制度
B. 成为中华民族由衰败到振兴的转折点
C. 结束了我国百年来半殖民地半封建的社会历史
D. 标志着我国基本实现了统一



6. 1951 年 5 月 23 日,中央人民政府和西藏地方政府在北京中南海正式签订了《中央人民政府和西藏地方政府关于和平解放西藏办法的协议》。这意味着中央人民政府

- A. 力争和平解放西藏取得成功
B. 摧毁了西藏的封建土地制度
C. 废除了册封达赖、班禅制度
D. 完成了对西藏的民主改革

7. 小丽同学在笔记中写道:“标志祖国大陆获得了统一,各族人民实现了大团结。”据此可知,她学习的内容是

- A. 中华民国的成立 B. 中国共产党的诞生
C. 中华人民共和国的成立 D. 西藏的和平解放

8. “我们不出兵,让敌人压至鸭绿江边,国内国际反动气焰增高,则对各方都不利。首先对东北不利,整个东北边防军将被吸引住,南满电力将被控制。”这段话中的“敌人”是指

- A. 美军 B. 日军 C. 八国联军 D. 英法联军

9. 在研究性学习中,小明同学搜集到下面三幅历史图片。据此可知,他研究的主题应该是



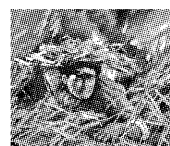
雄赳赳,气昂昂,跨过鸭绿江

- A. 人民解放军进军大西南
C. 解放东北



黄继光

- B. 抗美援朝
D. 抗日战争



邱少云

10. 下列军队的称号,按照出现的先后顺序排列正确的是
①中国工农红军 ②国民革命军 ③中国人民志愿军 ④中国人民解放军 ⑤八路军、新四军

- A. ①②③④⑤ B. ②①⑤④③
C. ②①③④⑤ D. ①②⑤④③

11. 央视视频频道“电影主题曲”展播节目中播放了电影《上甘岭》的主题曲“一条大河波浪宽,风吹稻花香两岸……”下列与该电影有关的表述正确的是

- A. 邱少云是牺牲在上甘岭战役中的英雄
B. 中国人民志愿军以朱德为总司令
C. 电影所反映的内容发生在抗美援朝战争中
D. 中朝人民军队被称为“最可爱的人”

12. 人们用“最可爱的人”来赞美中国人民志愿军战士。他们身上体现的伟大精神有

- ①革命英雄主义 ②爱国主义 ③国际主义 ④追求进步与科学
A. ①② B. ②④ C. ①②③ D. ②③④

13. 2018 年真是个奇迹年,开年第一周,金正恩和特朗普,刚刚比过谁的核按钮大的两个人,竟然都奇迹般地转变了态度。他们俩人所代表的国家在 65 年前签订过哪一协定?

- A. 朝鲜战争停战协定 B. 日本侵华战争停战协定
C. 八国联军侵华战争停战协定 D. 鸦片战争停战协定

14. “虽然从实际情况来讲,中国为了这场战争付出了巨大的代价,并且在一定程度上影响了国家的经济建设。但是,中国获取的战略利益是最大的。它成功地遏制了美国势力在周边的扩张,给新中国争取了一个相对安全的发展环境。”材料阐述了抗美援朝战争的

- A. 原因 B. 目的 C. 策略 D. 影响

15. 新中国成立前,中国的土地制度极不合理。占乡村人口不到 7% 的地主和富农,占有 50% 以上的土地;而占乡村人口 57% 以上的贫农、雇农,却只占有 14% 的土地,他们终年劳作,仍不得温饱。为了解决上述材料所反映的问题,中央决定

- A. 进行土地改革 B. 开展土地革命
C. 减租减息 D. 建立农村革命根据地

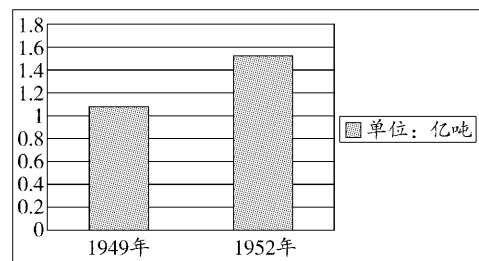
16. “它规定废除地主阶级封建剥削的土地所有制,实行农民的土地所有制。”材料中的“它”指的是

- A. 《中国人民政治协商会议共同纲领》
B. 《中华人民共和国土地改革法》
C. 《中华民国临时约法》
D. 《中华民国约法》

17. 1950 年开始的土地改革的基本内容是没收地主的土地,分给

- A. 有地的富农 B. 无地或少地的农民
C. 有劳动能力的领导人 D. 无地的工人

18. 下面是 1949—1952 年中国粮食产量示意图,促使图中数据发生变化的主要原因是



- A. 抗日战争的胜利 B. 土地改革运动的开展
C. 抗美援朝战争的胜利 D. 中华人民共和国的成立

19. 以下属于土地改革的意义的是

- ①废除了中国 2 000 多年的封建土地制度 ②大大解放了农村生产力,使农业生产迅速恢复和发展 ③建立了土地公有制 ④农民翻了身,成为土地的主人

- A. ①②③ B. ①②③④ C. ①②④ D. ②③④

20. 几乎与抗美援朝战争同时,国内轰轰烈烈地进行了土地改革。二者的共同作用是

- A. 打击了帝国主义的侵略 B. 消灭了剥削阶级
C. 巩固了人民政权 D. 发展了社会生产力

第Ⅱ卷


非选择题(40分)

得分	评卷人

二、材料题(40分)

21. 阅读下列材料,回答问题。(15分)

材料一



材料二 西藏自古以来就是中国的领土。1949年开国大典时,居住在青海塔尔寺的西藏宗教领袖之一班禅额尔德尼·确吉坚赞致电毛泽东主席,表示拥护中国共产党和中央人民政府,希望早日解放西藏。人民解放军在解放西南各省以后,一面向西藏进军,一面向西藏和平解放西藏。中央人民政府多次希望西藏地方政府派代表到北京谈判。

(1)材料一反映了唐朝时期与西藏交往的哪些史实?(4分)

(2)从材料二可以看出,新中国为解决西藏问题提出了哪两种办法?(4分)结果如何?(2分)有何重大历史意义?(2分)

(3)结合上述材料和所学知识,指出西藏为什么能获得和平解放。(3分)

22. 阅读下列材料,回答问题。(15分)

材料一 60多年前发生的那场战争,是帝国主义侵略者强加给中国人民的。朝鲜内战爆发后,美国杜鲁门政府悍然派兵进行武装干涉,发动对朝鲜的全面战争,并不顾中国政府多次警告,越过“三八线”,直逼中朝边境的鸭绿江和图们江,出动飞机轰炸我国东北边境城市和乡村,把战火烧到了新生的中华人民共和国国土之上。

材料二 如果继续进攻“三八线”以北地区,则只靠我们自己的力量,是难以克服此危机的。因此,我们不得不请求您给予我们特别的援助,即在敌人进攻“三八线”以北地区的情况下,极盼中国人民解放军直接出动援助我军作战!

——摘编自《金日成致毛泽东的求援电报》

材料三 毛泽东对一位解放军高级将领说:“要尽快入朝,给你10天准备时间,出兵时间初步定在10月15日。”

材料四 全国各界群众在抗美援朝战争中,表现出高度的爱国热情。当时国家刚从长期战乱中复苏,人民的生活水平还很低。但是,从1951年6月1日开始掀起全国规模的捐献飞机大炮运动以来,许多群众节衣缩食,积极捐款,到1952年5月底,全国人民在一年中捐款总额,约合可购买战斗机3710架。

(1)根据材料一、二并结合所学知识,分析中国政府决定出兵朝鲜的原因。(4分)

(2)材料三中的“高级将领”是谁?(2分)我国“入朝”的军队名称是什么?(2分)

(3)根据材料四并结合所学知识,分析抗美援朝战争取得胜利的主要原因有哪些。(4分)抗美援朝战争取得胜利的伟大意义是什么?(2分)

(4)结合所学知识指出,你从中国人民志愿军战斗英雄的身上学到了什么精神?(1分)

23. 习近平同志强调“中国梦是民族的梦,也是每个中国人的梦”。为追求民族独立、国家统一和富民强国,历代中国人进行了艰苦的努力和奋斗。阅读材料,回答问题。(10分)


材料一 在唤醒中华民族萌发出中国梦的过程中,无数仁人志士屡蹈屡起。他们曾经学习西方列强的船坚炮利……他们曾经寄希望于封建君主的“维新新政”……他们曾经渴望通过资产阶级民主革命推翻封建帝制……真正把中国人民和中华民族带上实现“中国梦”的人间正道的,是中国共产党人。

——摘编自《光明专论:百年追梦与民族自强》

材料二 “……我们的民族再也不是一个被人侮辱的民族了,我们已经站起来了,我们的革命已经获得了世界广大人民的同情和欢呼。我们的朋友遍于全世界。”

——毛泽东

材料三



(1)根据材料一并结合所学知识指出,“他们”为实现民族独立和人民解放的“中国梦”进行了哪些探索活动?(3分)中国人民从此站起来了的标志性事件是什么?(1分)

(2)材料二中毛泽东说“我们已经站起来了”表达了什么深刻含义?(2分)

(3)材料三分别反映了哪些重大历史事件?(2分)请给材料三拟一个合适的主题。(2分)

中国历史(八年级下册)

第一单元 上分卷

(满分 100 分,考试时间 45 分钟)

题号	一	二	三	总分
得分				

第 I 卷 选择题(60 分)

得分	评卷人

一、单项选择题(每小题 3 分,共 60 分)
(在每小题给出的四个选项中,只有一项最符合题目要求。)

题号	1	2	3	4	5	6	7	8	9	10
选项										
题号	11	12	13	14	15	16	17	18	19	20
选项										

- 在第一届中国人民政治协商会议开幕式上,毛泽东说:诸位代表先生们,我们有一个共同的感觉,这就是我们的工作将写在人类的历史上。“我们的工作”包括
A. 制定并通过《中国人民政治协商会议共同纲领》
B. 颁布《中华人民共和国土地改革法》
C. 决定出兵援助朝鲜
D. 签署“双十协定”
- 人民英雄纪念碑碑文中写道:“……三十年以来,在人民解放战争和人民革命中牺牲的人民英雄们永垂不朽!……”文中的“人民革命”是指
A. 旧民主主义革命 B. 辛亥革命
C. 新民主主义革命 D. 国民大革命
- 1949 年 10 月 1 日,首都 30 万军民齐集天安门广场。毛泽东向全世界庄严宣告:“中华人民共和国中央人民政府今天成立了!”接着,受检阅部队以海军的两个排为前导,步兵师、炮兵师、战车师、骑兵师依次通过主席台,空军 14 架飞机在会场上空接受检阅。与上述材料相关的史实是
A. 五四运动 B. 抗美援朝 C. 开国大典 D. 土地改革
- 标志着中国从此走上了独立、民主、统一的道路,开始了向社会主义过渡的新时期的历史事件是
A. 中华人民共和国的成立 B. 抗美援朝战争的胜利
C. 土地改革的完成 D. 西藏和平解放

- 国家主席习近平勉励大家:“每个人都有理想和追求……实现中华民族伟大复兴,就是中华民族近代以来最伟大的梦想。”回首往事,中华民族摆脱屈辱,终于站起来了,不断追梦始于
A. 新中国的成立 B. 中华民国的成立
C. 南京国民政府被推翻 D. 抗日战争的胜利
- 下图的内容是关于解放西藏史实的部分叙述。这段话提到了西藏解放的
A. 背景和人物 B. 人物和方式
C. 方式和背景 D. 时间和意义
- 观察中华人民共和国开国大典图(图 1)、西藏和平解放协议签字仪式图(图 2),关于图 1 和图 2 的内在联系,下列论述最准确的是

1951 年,西藏获得解放。至此,祖国大陆获得了统一,各族人民实现了大团结。





图1




图2


- 西藏百万农奴翻身得解放
B. 西藏和平解放实现了祖国统一
C. 西藏走上了社会主义道路
D. 新中国的成立是西藏和平解放的主要前提
- 中华人民共和国成立后,美国采取孤立封锁政策,还从军事上威胁中国安全。下列史实中,可以佐证这一观点的是
①以美军为主的所谓“联合国军”越过“三八线”,打到中国鸭绿江边
②美国给国民党提供装备,支持蒋介石发动内战 ③美军轰炸中国东北边境城市 ④美国第七舰队入侵台湾海峡
A. ①②③ B. ②③④ C. ①③④ D. ①②④
- 下列说法中,最能体现中国人民志愿军开赴朝鲜作战的目的是
A. 唇齿相依,唇亡齿寒 B. 抗美援朝,保家卫国
C. 抵抗侵略,维护和平 D. 援助邻国,睦邻友好
- 小亮的爷爷今年已经 86 岁了。在“六一”儿童节时,他给小亮和同学们讲了一个自己亲身经历的发生在 60 多年前的战斗故事。那是一次空前惨烈的战役,他们给予了美国侵略军沉重的打击,但是也失去了最好的战友黄继光。那次战役是
A. 上甘岭战役 B. 百团大战
C. 淮海战役 D. 台儿庄战役
- 2018 年 4 月 27 日,十三届全国人大常委会第二次会议表决通过了《中华人民共和国英雄烈士保护法》,明确赋予检察机关对侵害英雄烈士姓名、肖像、名誉、荣誉等权益的行为提起诉讼的权力。下列人物符合此法案保护的是
A. 邱少云 B. 齐白石 C. 鲁迅 D. 聂耳
- “联合国军”总司令克拉克在回忆录《从多瑙河到鸭绿江》中写道:“我获得了一个不值得羡慕的名声——我是美国历史上第一个在没有取得胜利的停战协定上签字的司令官。”下列哪一图片反映了克拉克签署停战协定的场景?



A



B




C



D

- 彭德怀说:“西方侵略者几百年来只要在东方一个海岸架起几尊大炮就可霸占一个国家的时代是一去不复返了。”这种变化开始于下列哪一事件的胜利?
A. 抗日战争 B. 抗美援朝战争
C. 土地改革 D. 西藏和平解放
- 一位日本教授感慨道:“1949 年,你们说中国人从此站起来了,在我们日本无人相信。看看你们中国人,100 多年来一个失败接一个失败,几千个外国侵略者就可以直入你们首都杀人放火,你们就得割地赔款。后来你们出兵朝鲜,你们把美国人从朝鲜半岛北面压到了南面,看来中国人是真的站起来了。”材料的主要观点是
A. 新中国的成立标志着中国人站起来了
B. 几千个外国人就可以攻下我们的首都
C. 100 多年来我们一直被列强逼迫着割地赔款
D. 抗美援朝战争的胜利,大大提高了中国的国际地位
- 1949 年,某村有 152 户,2 511 亩土地,其中 11 户就占了 1 000 多亩土地。这 11 户人家最有可能是
①贫农 ②地主 ③富农 ④雇农
A. ①② B. ①③ C. ②③ D. ①④
- 穿越时空,假如你回到 20 世纪 50 年代中期我国的农村,不可能看到的现象是
A. 农民生产积极性很高 B. 地主成为一无所有的阶级
C. 农民拥有自己的农具、牲畜 D. 农民不用向地主缴纳地租
- 关于下列两幅图片所反映的历史事件,下列说法正确的是



- ①都是在全国所有地区进行的 ②都是新中国成立后开始的
③都废除了封建剥削的土地制度 ④都使农村的阶级关系和土地占有状况发生根本性变化 ⑤都为解放战争的胜利提供了重要保障 ⑥都使中国共产党赢得了民心
A. ①②③④⑤⑥ B. ②③④⑥
C. ③④⑤⑥ D. ③④⑥
- 一位农民在给毛主席的一封信中说:“我们祖祖辈辈做梦都想着有一天自己能有三亩、五亩的地,能在自己的土地上耕种,那该有多高兴啊……现在这个梦想实现了。”“这个梦想实现了”是因为
A. 土地改革的完成 B. 中华人民共和国的成立
C. 人民解放战争的胜利 D. 西藏和平解放

类别	粮食	棉花	油料
1951 年比 1950 年增长 (%)	8.7	48.8	22.4
1952 年比 1951 年增长 (%)	14.1	26.5	12.5

- ## 第Ⅱ卷 非选择题(40分)

得分	评卷人

21. 阅读下列材料,回答问题。(15 分)

——中国政府网

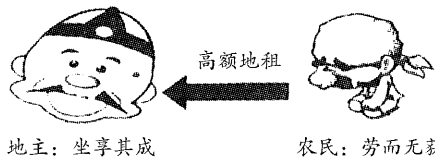
——周恩来讲活(1950年)

- (2)简述材料二所反映的事件的重大影响。(4分)

- (4) 概括上述材料所反映的历史事件之间的内在联系。(2分)

22. 阅读下列材料,回答问题。(15分)

材料一



- (1) 材料一反映了中华人民共和国成立前的哪一制度? (2 分) 这一制度给新中国带来怎样的影响? (2 分) 为此, 中央采取了什么措施? (2 分)

材料二 “废除地主阶级封建剥削的土地所有制,实行农民的土地所有制,借以解放农村生产力,发展农业生产,为新中国的工业化开辟道路。”

- (2) 材料二出自哪一部法律文件? (2 分) 结合材料二和所学知识, 区别土地改革的直接目的和根本目的。(4 分)

材料三 漫画《家乡喜讯》



- (3) 根据材料三并结合所学知识,归纳“土地易主”所产生的重大影响。(3分)

得分	评卷人

三、探究题(10 分)

23. 国旗是一个国家的象征。在中国历史上,直到清朝晚期才开始颁布正式的、现代意义的国旗。从此至新中国成立,我国使用过的国旗分别有黄龙旗、五色旗、青天白日满地红旗和五星红旗。

黄龙旗(如右图所示):1889年5月26日出使美国的清政府大臣张荫桓奏请定长方形黄色龙旗为国旗。旗面黄色为满族的代表色,旗上的龙则象征着皇帝。黄龙旗从1900年开始在全国悬挂,直至清朝灭亡。




- (1)黄龙旗在全国悬挂之际,正值国家危难之时。这里“国家危难”的主要表现是什么?(2分)

下面是中华民国时期两面不同的国旗,这两面旗帜在中国近代史上都曾十分的鲜亮过。




五色旗（五色依次是红、黄、蓝、白、黑）
1912年1月1日，孙中山就任临时
大总统，以其为国旗



青天白日满地红旗
1928年，南京国民政府
以其为“国旗”

- (2)五色旗取代黄龙旗,在中国历史上产生的深远影响是什么?
(2分)哪一战争的胜利,使青天白日满地红旗成了中华民族洗
刷百年耻辱的历史见证?(1分)

- (3) 1949 年,鲜艳的五星红旗(如右图所示)在天安门广场冉冉升起,这是中华民族的一次华丽转身。这次“华丽转身”指的是什么?(1 分)“华丽转身”有什么历史意义?(2 分)



- (4)“……五星红旗你是我的骄傲,五星红旗我为你自豪,我为你欢呼,为你祝福,你的名字比我生命更重要……”请你回忆一下:有哪些五星红旗飘扬的画面,令你心潮激荡?试列举两例。(2分)

中国历史(八年级下册)

第二单元 根本卷

(满分 100 分,考试时间 45 分钟)

题号	一	二	三	总分
得分				

第 I 卷 选择题(60 分)

得分	评卷人

一、单项选择题(每小题 3 分,共 60 分)
(在每小题给出的四个选项中,只有一项最符合题目要求。)

题号	1	2	3	4	5	6	7	8	9	10
选项										
题号	11	12	13	14	15	16	17	18	19	20
选项										

- 新中国成立初期,毛泽东感慨地说:“现在我们能造什么?能造桌子椅子,能造茶碗茶壶……但是,一辆汽车、一架飞机、一辆坦克、一辆拖拉机都不能造。”为此,我国
 - 实施了“一五”计划
 - 进行社会主义改造
 - 实现工作重心转移
 - 进行经济体制改革
- 我国制定的发展国民经济的第一个五年计划是从
 - 1952 年至 1956 年
 - 1949 年至 1953 年
 - 1950 年至 1954 年
 - 1953 年至 1957 年
- 2018 年是我国“十三五”规划的关键之年。我国在第一个五年计划期间集中力量发展
 - 农业
 - 手工业
 - 轻工业
 - 重工业
- 对下表所反映的内容,下列认识正确的是

中国“一五”计划期间农、轻、重产值平均增长速度和比重变化表

行业	平均增长速度及比重	1953—1957 年平均增长速度(%)	1953 年(%)	1957 年(%)
农业		4.5	52.8	43.5
轻工业		12.8	29.6	29.2
重工业		25.4	17.6	27.3

①农业生产增长相对缓慢 ②国民经济调整任务完成 ③国民经济建设成就突出 ④重工业得到了优先发展

- ①②③
 - ①③④
 - ①②④
 - ②③④
- 下列不属于我国“一五”计划时期成就是
 - 农民成为土地的主人
 - 长春一汽建成投产
 - 沈阳第一机床厂建成投产
 - 武汉长江大桥建成通车
 - 《人民日报》记者袁水拍在《六亿人民心花开》一文中写道:“代表们走进了会场,坐上最高国家权力机关的席位。”“人民有了各项权利,这是中国开天辟地的第一次。”这些“代表们”参加的是
 - 中国人民政治协商会议第一届全体会议
 - 中共七大
 - 第一届全国人民代表大会
 - 遵义会议
 - “中华人民共和国的一切权力属于人民。人民行使权力的机关是全国人民代表大会和地方各级人民代表大会。”材料出自
 - 《中国人民政治协商会议共同纲领》
 - 《中华人民共和国宪法》
 - 《中华民国临时约法》
 - 《中华人民共和国土地改革法》
 - 在 60 多年前的一次会议上,毛泽东说:“这次会议是我国人民 1949 年建国以来的新胜利和新发展的里程碑。”其主要依据是指
 - 制定中国第一部社会主义类型的宪法
 - 选举了新的国家和中央人民政府领导人
 - 制定社会主义建设的“一五”计划
 - 顺利实现西藏和平解放
 - 历史照片是时代的见证。下面照片“农民申请加入农业生产合作社”发生的历史时期是
 - 1950—1952 年
 - 1953—1956 年
 - 1958—1966 年
 - 1966—1976 年
 - 以下关于对农业进行社会主义改造的论述,正确的是
 - ①根据自愿互利的原则 ②引导农民组织起来,走合作化道路
 - ③1966 年掀起了农业合作化高潮 ④从互助组到初级合作社再到高级合作社
 - ①②③
 - ②③④
 - ①③④
 - ①②④
 - 抚州市某地有一社区叫做“豆腐社”,当地老人说,这是当年按国家政策,将从事豆腐制作加工的手工业者组织在一起,建立了“豆腐生产合作社”而得名。有关“豆腐社”,下列说法正确的是
 - 豆腐社体现出早期的手工业作坊生产力水平低,阻碍社会进步
 - 农业合作化运动推动了“豆腐社”等手工业生产合作社的发展
 - 对手工业进行社会主义改造是中国人民对生产关系的创新变革
 - 建立手工业生产合作社是我国迈向社会主义工业化道路的唯一选择

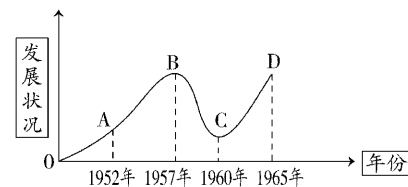
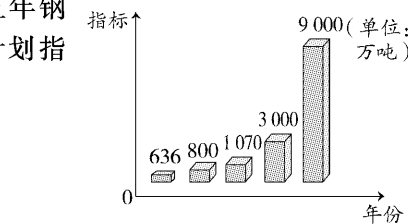


农民申请加入农业生产合作社

- 观察右图,厦门华垦火柴厂的改造属于
 - 对农业的社会主义改造
 - 对手工业的社会主义改造
 - 废除地主封建土地所有制
 - 对资本主义工商业的社会主义改造



- 1956 年,社会主义制度在我国基本建立,其主要依据是
 - 抗美援朝战争的胜利
 - “一五”计划的完成
 - 公有制经济占主导地位
 - “大跃进”运动的开展
- 中共八大分析了我国形势的新变化,这里的“新变化”主要是指
 - 抗日战争即将胜利
 - 解放战争全面胜利
 - 土地改革全面展开
 - 三大改造即将完成
- 右图为我国某一时期计划的五年钢产量生产指标示意图。图中计划指标剧增的主要原因是
 - 社会主义制度的确立
 - “大跃进”运动的开展
 - “一五”计划提前完成
 - 抗美援朝战争胜利
- 下图反映的是新中国 20 世纪五六十年代的农业经济发展状况。出现图中 B 点到 C 点这一变化的主要原因是
 - 经济建设缺乏计划性
 - 自然灾害迅速蔓延
 - “左”的错误严重泛滥
 - 社会主义过渡的仓促性
- 人的名字往往与时代特征有一定的联系。下列名字中,与本人出生的时代特征不符的是
 - 出生于 1949 年,取名建国
 - 出生于 1951 年,取名援朝
 - 出生于 1958 年,取名跃进
 - 出生于 1978 年,取名文革
- 下列关于“文化大革命”的叙述,不正确的一项是
 - 毛泽东为防止资本主义复辟而错误发动
 - “文化大革命”是一场给党、国家和各族人民带来严重灾难的内乱
 - “文化大革命”期间是指 1966—1976 年
 - 1976 年,林彪反革命集团被粉碎,“文化大革命”结束
- 下列科技成就中,属于我国科技工作者排除“文化大革命”错误路线干扰,坚持科学探索而取得的是
 - ①第一颗氢弹爆炸成功 ②鞍山钢铁厂建成投产 ③首次在上世界上培育成功强优势的籼型杂交水稻 ④第一颗人造地球卫星发射成功
 - ①②③
 - ②③④
 - ①②④
 - ①③④
- 社会主义建设的探索时期,一个名字响彻神州大地,他被誉为县委书记的榜样、人民的好干部。中共中央总书记习近平来到兰考,号召全体党员干部向他学习,为推进党和人民事业发展、实现中华民族伟大复兴的中国梦提供强大正能量。他是
 - 王进喜
 - 李顺达
 - 焦裕禄
 - 雷锋



中国历史(八年级下册)

第二单元 上分卷

(满分 100 分,考试时间 45 分钟)

题号	一	二	三	总分
得分				

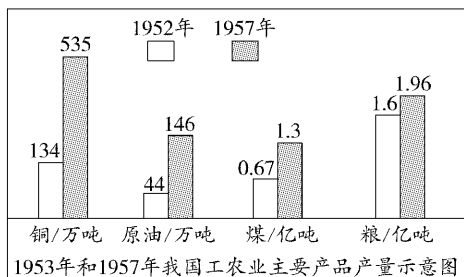
第 I 卷 选择题(60 分)

得分	评卷人


一、单项选择题(每小题 3 分,共 60 分)
(在每小题给出的四个选项中,只有一项最符合题目要求。)

题号	1	2	3	4	5	6	7	8	9	10
选项										
题号	11	12	13	14	15	16	17	18	19	20
选项										


- “因为我国过去重工业的基础极为薄弱,经济不能独立,国防不能巩固,帝国主义国家都来欺负我们……资本主义国家一般是花五十年到一百年的时间才能实现工业化,而苏联采用了社会主义工业化的方针……在十多年中就实现了国家的工业化”。上述材料主要介绍了
 - “一五”计划的历史背景
 - “一五”计划的主要内容
 - “一五”计划的历史成就
 - “一五”计划的社会影响
- 图表是历史过程的真实记录,每一幅图表都记载了一段生动的历史。下面的图表所反映的历史信息是




- 集中力量发展重工业
 - 农、轻、重均衡发展
 - 优先发展交通运输业
 - 完成土地制度变革
- 2018 年是实施“十三五”规划承上启下的关键一年,某中学准备举办一场“一五”计划成果图片展,下列图片适合采用的是




①武汉长江大桥



②第一架喷气式飞机



③西藏和平解放

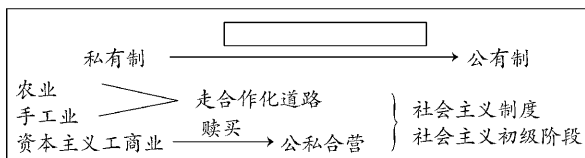


④第一辆解放牌汽车

- ①②③
 - ②③④
 - ①③④
 - ①②④
- 从 1953 年开始的“一五”计划在实施过程中,“在某种程度上忽视了农业的发展……为以后相当长时间留下了后遗症”。这一评价告诉我们
 - “一五”计划在实施过程中存在着一些问题
 - “一五”计划大幅度超额完成所有指标
 - “一五”计划在实施过程中失误占主导地位
 - “一五”计划以农业经济的发展为中心
 - 20 世纪 20 年代,毛泽东提出“人民来制定宪法”的思想:劳动人民参与立宪,把他们认为应该如何管理国家的意见集中起来,上升为国家意志。实践这一思想的会议召开于
 - 1949 年
 - 1950 年
 - 1952 年
 - 1954 年
 - 第一届全国人民代表大会期间,全国有 1.5 亿人参加宪法草案修改讨论,提出 118 万条修改和补充意见,大会根据这些意见,对宪法草案进行了认真的修改,这说明《中华人民共和国宪法》充分表达了
 - 人民的意志
 - 知识分子的意志
 - 工人的意志
 - 农民的意志
 - 史论结合是历史学习的一项基本要求。下列关于新中国社会发展的史实与结论,搭配正确的一项是

选项	史实	结论
A	土地改革	消灭了私有制
B	第一届全国人民代表大会	形成人民代表大会制度
C	“一五”计划	完全实现了国家工业化
D	新中国成立	中国进入社会主义阶段

- “到 1956 年底,在全国共建立 75.6 万个合作社,入社农户达 96.3%,农业合作化在全国基本实现……”以上内容反映的是
 - 土地改革
 - 对农业的社会主义改造
 - 手工业生产合作社
 - 农村革命根据地的建设
- 板书是浓缩的教学案。如下图所示板书设计,其标题应为

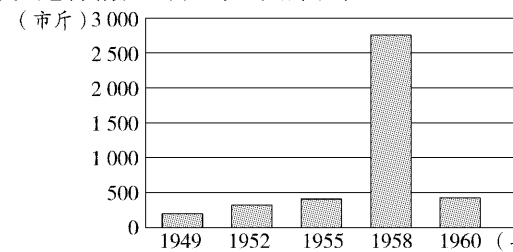


- 西藏和平解放
 - 三大改造
 - 土地改革的完成
 - 开国大典
- 1956 年底,毛泽东曾说:“手工业中许多好的东西不要搞掉了,王麻子、张小泉的剪刀一万年也不要搞掉。我们民族好的东西,搞掉了的,一定要来一个恢复。”毛泽东的这一番话针对的问题是
 - 土地改革中的急于求成
 - 手工业改造中的过急、过粗
 - 反“围剿”中“左”的错误
 - “一五”计划工农业比例失调
 - 创建于济南的老字号瑞蚨祥,在 1954 年底响应国家号召,率先实现社会主义改造。我国在社会主义改造过程中采取的创造性举措是



- 成立合作社
- 赎买政策
- 无偿没收
- 公私合营

- 在中国百年现代化历程中,私营企业在 1956 年集体消亡,这独一无二的历史现象是最彻底的“国进民退”。私营企业“集体消亡”的原因是
 - 新中国成立使得中国人民实现当家作主
 - 土地改革废除了地主土地所有制
 - 抗美援朝胜利为我国经济建设创造了相对稳定的环境
 - 对资本主义工商业进行社会主义改造
- 中国共产党第八次全国代表大会在探索我国建设社会主义道路方面取得的重要成果有
 - 确立了毛泽东思想的指导地位
 - 制定了第一部社会主义类型的宪法
 - 正确分析了我国国内的主要矛盾
 - 作出了抗美援朝、保家卫国的战略决策
- “人有多大胆,地有多大产”“土地潜力无穷尽,亩产多少在人为”等口号应产生于
 - 20 世纪 50 年代中后期
 - 20 世纪 50 年代初期
 - 20 世纪 60 年代中后期
 - 20 世纪 40 年代后期
- 下图是某地的水稻产量数据柱状图,其中 1958 年的亩产量远高于其他年份。这种情况出现的主要原因是




- “一五”计划的实施
 - “大跃进”运动中浮夸风盛行
 - 水稻种植技术的改良
 - 土地改革为工业化创造条件
- 1961 年,中共中央召开全国经济工作会议,对国民经济提出“调整、巩固、充实、提高”的方针。这一事件产生的历史背景是
 - 三大改造基本完成
 - 出现了“大跃进”和人民公社化运动的失误
 - 推进农业合作化运动
 - 支援抗美援朝战争
 - “文化大革命”给国民经济造成了严重破坏,其结束的标志是
 - 四五运动
 - 二月革命
 - 九一三事件
 - 粉碎“四人帮”
 - “从一九七四年到一九七六年,由于‘四人帮’的干扰破坏,全国大约损失工业总产值一千亿元,钢产量两千八百万吨,财政收入四百亿元……”这则材料反映出“文化大革命”的一个严重后果是
 - 民主法制遭到践踏
 - 国民经济遭受巨大损失
 - 经济结构极不合理
 - 科学文化教育事业遭到摧残
 - 20 世纪 60 年代,王进喜、焦裕禄、雷锋等先进人物作出的共同贡献是
 - 推进了工业化的实现
 - 改变了农业落后的面貌
 - 实现了“科教兴国”的梦想
 - 弘扬了艰苦创业的精神
 - 如果要为下列三幅图片所反映的历史事件拟定一个主题,最恰当的是



农业合作化运动



第一个五年计划成就



“大跃进”和人民公社化运动

- 向社会主义过渡的实现
- 高指标、瞎指挥泛滥
- 社会主义工业化的完成
- 社会主义道路的探索

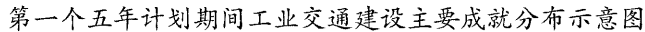
★
★
★
密
封
线
内
不
要
答
题
★
★
★

二、材料题(30 分)

材料一 我国的工业基础,特别是重工业基础,非常薄弱……许多重要工业品的人均拥有量,不仅远远落后于工业发达国家,甚至落后于1950年的印度……这种落后的经济状况只能靠优先发展重工业才能改变,只有钢铁等基础工业发展了,机器制造业的原材料增多了,轻工业的装备才能保证。

材料二 对粮食、油料、棉花、棉布的计划收购和计划供应无疑是一种重大的措施。它关系到全国人民生活中最重要的吃饭和穿衣的问题,也关系到我国城乡经济生活的许多方面。计划收购和计划供应对我们国家目前的情况来说,是很必要的。只有采用这种办法,才能保证我国人民生活日益增长的需要,才能制止投机活动,保证市场物价的稳定,才能使发展国民经济的第一个五年计划得以顺利地进行。

材料三



——摘编自《中国人民政治协商会议共同纲领》

——《人民日报》社论(1954年9月15日)

(2)根据材料二并结合所学知识,概括指出我国制定“统购统销”政策的历史背景。(3分)

(4)材料四的文件在当时起到什么历史作用?(2分)

(5) 根据材料五, 指出我国“人民代表大会制度”的优越性。(2 分)
这次大会对我国的民主政治建设有何重要贡献?(3 分)

材料一 这种有计划地大量增产的要求和小农经济分散私有的性质以及农业技术的落后性质之间的矛盾是越来越明显了,困难越来越多了。这是两个带根本性质的矛盾。解决这些矛盾的第一个方针,就是实行社会革命,即农业合作化,就必须把劳动农民个人所有制逐步过渡到集体所有制,逐步过渡到社会主义。第二个方针,就是实行技术革命,即在农业中逐步使用机器和实行其他技术改革。

材料二 手工业合作社的规模,一般的一百人左右为宜,有的也可以几百人,有的也可以几十人……组织铁、木业合作社为农业生产服务,下乡修理农具,这个办法很好,农民一定欢迎。中国手工业几千年来就有这样做的。组织合作社以后,提高了技术,就能更好地为农民服务。

——摘编自《毛泽东文集第七卷》

材料三 1956 年各经济成分较 1952 年的变化表

材料四 “在 1955 年夏季以后,农业合作化以及对手工者和个体工商业的改造要求过急、工作过粗、改变过快,形式也过于简单划一,以致长期遗留了一些问题。1956 年资本主义工商业改造基本完成以后,对一部分原工商业者的使用和处理也不很适当。”

——摘编自《中国共产党中央委员会关于建国以来

党的若干历史问题的决议》

(1)材料一中的“两个根本矛盾”是指什么?(2分)如何解决这“两个根本矛盾”? (2分)

(2)材料二中手工业改造的对象有哪些?(2分)改造后起到什么作用?(2分)

(3) 根据材料三指出,我国经济成分发生了哪些变化?(2分)造成这种变化的主要原因是什么?(2分)

(4)材料四是如何评价三大改造的?(2分)结合所学知识,指出我们评价历史事件及人物的标准有哪些。(1分)

三、探究题(10分)

23. 2018 年是改革开放 40 周年,某校初二同学为了更好了解改革开放前的新中国历史,特地展开了探究性学习。请结合所学知识,完成下列探究任务。

任务一 【建国伟业——体验家国自豪】

(1) 史料一般包括文献史料、实物史料、口述史料三大类,它是我们发现历史、解释历史的依据。请你判断下列史料所属的类别。(只填序号,3分)

①开国大典上的五星红旗 ②周恩来访谈录音 ③人民英雄纪念碑 ④《中国人民政治协商会议共同纲领》 ⑤《开国大典发言稿》

实物史料:

文献史料：_____

口述史料：_____

任务二 【政权巩固——见证风云变迁】

(2) 观察并归纳历史事件的共同影响。(1 分)

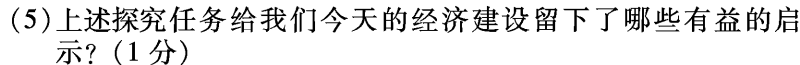
任务三 【制度建立——实现凤凰涅槃】

(3) 图片是形象的史料,下列图片生动地反映了我国的发展历史。
请为下列图片确立一个合适的历史主题。(1分)



任务四 【建设探索——汲取历史经验】

(4) 结合时间轴所反映的事件和相关史实,简述新中国“探索时期”的发展历程。(4分)



中国历史(八年级下册)

第一次 月考卷

(满分 100 分,考试时间 60 分钟)

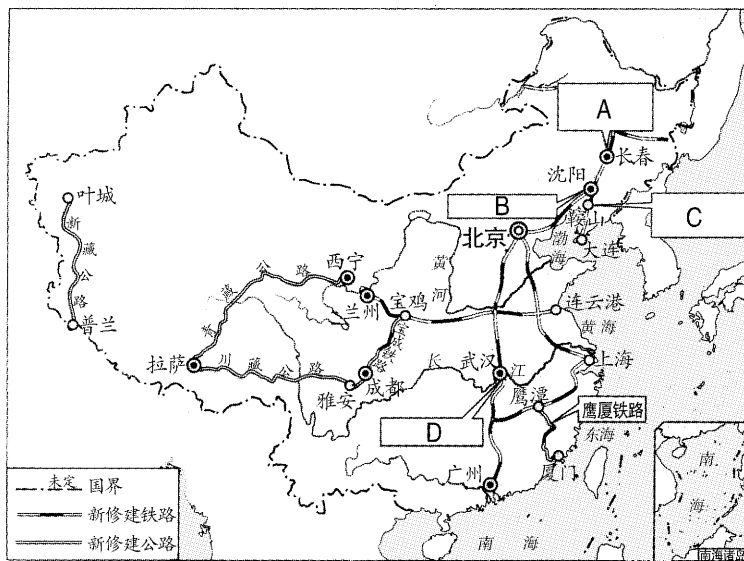
题 号	一	二	三	总 分
得 分				

第 I 卷 选择题(40 分)

得分	评卷人	一、单项选择题(每小题 2 分,共 40 分) (在每小题给出的四个选项中,只有一项最符合题目要求。)									
		题 号	1	2	3	4	5	6	7	8	9
		选 项									
		题 号	11	12	13	14	15	16	17	18	19
		选 项									

1. 中国人民政治协商会议第一届全体会议的内容不包括
- A. 选举毛泽东为中央人民政府主席
- B. 制定了《中华人民共和国宪法》
- C. 确定北平为新中国的首都,并改名为北京
- D. 决定修建人民英雄纪念碑
2. 国家主席习近平勉励大家:“每个人都有理想和追求,都有自己的梦想。现在,大家都在讨论中国梦,我认为,实现中华民族伟大复兴,就是中华民族近代以来最伟大的梦想。”回首往昔,中华民族摆脱屈辱,终于站起来了,不断追梦始于
- A. 中国共产党成立
- B. 抗日战争胜利
- C. 新中国成立
- D. 三大改造基本完成
3. 纪录片《今日西藏》主题歌这样唱道:“翻身农奴把歌唱,幸福的歌声传四方。”在西藏历史上,西藏和平解放和百万农奴得以解放的时间分别是
- A. 1951 年 1956 年
- B. 1949 年 1951 年
- C. 1951 年 1959 年
- D. 1949 年 1959 年
4. 彭德怀在自述中写道:“一个觉醒了的敢于为祖国光荣、独立和安全而奋起战斗的民族是不可战胜的。”有力证明这一观点的事件是
- A. 抗日战争
- B. 解放战争
- C. 土地改革
- D. 抗美援朝
5. “1950 年 6 月,朝鲜内战爆发。美国悍然派兵侵略朝鲜。以美军为主的所谓‘联合国军’越过‘三八线’,一直打到中国边境鸭绿江边;美军飞机入侵中国领空,轰炸扫射中国东北边境城市……”上述材料说明我国抗美援朝是
- A. 保家卫国的正义战争
- B. 挑战美国权威的不明智之举
- C. 以抗美之名侵略朝鲜
- D. 以抗美之名称霸世界

6. 新中国成立后,我国进行土地改革的根本原因是
- A. 农民要求进行土地改革
- B. 封建剥削的土地制度严重阻碍了中国社会的发展
- C. 新中国成立初期国家经济困难
- D. 农民对地主阶级不满
7. 1950 年 10 月,我国农村某家庭正在召开家庭会议。这次会议的内容可能有
- ①宣传土地改革的方针政策 ②商谈参加农业生产合作社的事宜
- ③商量参军保卫国家安全的事宜 ④商讨参加人民代表大会代表普选的事宜
- A. ①②
- B. ②③
- C. ①③
- D. ①④
8. “斗地主”已经成为当今老百姓喜闻乐见的游戏。使“地主”退出历史舞台的事件是
- A. 中华人民共和国的成立
- B. 土地改革
- C. 三大改造
- D. “文化大革命”
9. 下面是我国第一个五年计划期间主要成就分布示意图。关于图中的信息,下列解读正确的有



- ①A 处生产了我国第一辆国产汽车 ②B 处是我国第一架喷气式歼击机的产地 ③C 处的石油开采使我国实现了原油和石油产品的全部自给 ④“一桥飞架南北,天堑变通途”中的大桥坐落在 D 处 ⑤“一五”计划的完成使我国初步形成了独立的比较完整的工业体系和国民经济体系,基本实现了工业化
- A. 一处
- B. 两处
- C. 三处
- D. 四处
10. 20 世纪 50 年代的激情岁月给定居北京的波兰籍作家爱泼斯坦夫妇留下了深刻的印象:“我们被一种同样的精神所感召,这是一种不为名、不为利,只为一个共同目标而奋斗的行动。没有真心实意地参加过这种集体劳作的人是很难体会这种感情的。”据此可知,“一五”计划取得成功的原因有
- A. 苏联的援助
- B. 党的正确领导
- C. 全国人民的热情参与
- D. 相对稳定的环境
11. 下图是 2018 年 3 月 29 日第 19 届深圳国际制造工业展览会部分参展企业的标识,其中与“一五”计划无关的是



12. 我国第一部社会主义类型的宪法是
- A. 《中国人民政治协商会议共同纲领》
- B. 《中华人民共和国土地改革法》
- C. 《中华人民共和国宪法》
- D. 《中华民国临时约法》
13. 刘少奇在某报告中指出:“从 1953 年起,我国已经按照社会主义的目标进入有计划的经济建设时期,因此,我们完全有必要在《共同纲领》的基础上前进……”这里的“前进”指
- A. 确立了政治协商制度
- B. 确立了社会主义制度
- C. 实现了社会主义工业化
- D. 颁布了第一部社会主义类型的宪法
14. 在社会主义改造中实行赎买政策,实现了“和平过渡”。这是指
- A. 国家由战乱向和平过渡
- B. 资本家由剥削者到劳动者的过渡
- C. 工商业由初级合作社到高级合作社的过渡
- D. 生产资料私有制到生产资料公有制的过渡
15. 依据下列史实,可以得出的基本结论是

1955 年全国掀起农业合作化的高潮
1956 年底,绝大多数农民参加了农业生产合作社
同时,绝大多数手工业者参加了手工业生产合作社
1956 年初,资本主义工商业出现了全行业的公私合营
1956 年底,三大改造基本完成

- A. 封建土地剥削制度已经废除
- B. 社会主义基本制度在我国建立起来
- C. 抗美援朝战争取得了胜利
- D. 第一个五年计划超额完成
16. 在 1956 年 1 月 25 日的最高国务会议上,陈云对毛泽东说:“公私合营以后,东来顺的羊肉嚼不烂了,芝麻酱不香了,糖蒜不甜了,全聚德的烤鸭不好吃了……”材料表明三大改造
- A. 很有必要
- B. 效果很好
- C. 违背规律
- D. 出现问题
17. 中共八大被称为探索社会主义道路的良好开端,主要是因为它
- A. 确立了社会主义建设总路线
- B. 规定了中国的社会性质
- C. 提出了要“以阶级斗争为纲”
- D. 正确分析了当时国内的主要矛盾
18. 右图是 1958 年 8 月 1 日《人民日报》第 1 版刊登的一篇通讯,出现这种现象的原因是
- A. 农民的生产积极性高
- B. 传统农耕技术的创新
- C. 农业现代化的结果
- D. “左”的错误在全国泛滥
19. 某班同学准备举办一场有关王进喜、焦裕禄、雷锋等人的先进事迹故事会。如果要拟定故事会的主题,你认为最合适的是
- A. “最可爱的人”
- B. 石油战线的标兵
- C. 建设社会主义的楷模
- D. 人民的好公仆
20. 下列说法中,属于“文化大革命”期间我国取得的一系列成就是
- ①第一颗氢弹成功爆炸 ②成功发射第一颗人造地球卫星 ③首先完成了人工合成结晶牛胰岛素 ④修建兰新、兰青、包兰铁路 ⑤在世界上首次培育成功强优势的籼型杂交水稻
- A. ①②③④⑤
- B. ①②⑤
- C. ①②③
- D. ①②③④



第Ⅱ卷 非选择题(60分)

得分	评卷人

二、材料题(45分)


21. “三农”问题一直是全党工作的重中之重。请结合下列图片资料,完成相关问题。(14分)

材料一



土地改革纪念邮票

图1



“一五”计划纪念邮票

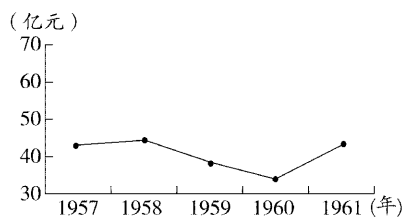
图2

材料二



农民申请加入农业生产合作社

图3



我国农业生产总值变化示意图

图4

(1)图1反映的事件是在哪一法律文献的指导下进行的?(2分)
图1和图2反映的事件之间有何关系?(2分)

(2)图3反映的是国家对农业的社会主义改造,其主要方式是什么?(2分)从图1到图3,农村土地的所有制经历了怎样的变化?(2分)

(3)观察图4后指出,造成1958—1960年我国农业生产总值发生变化的主要原因是什么?(2分)1960年后我国农业生产总值又开始回升的主要原因是什么?(2分)

(4)综上所述,你认为影响农业发展的主要因素有哪些?(2分)

22. 中华人民共和国成立后,党和政府在探索社会主义建设的道路上,实施了一系列政策。阅读下列材料,回答问题。(14分)

材料一 1953—1957年我国农业、轻工业和重工业产值平均增长速度和比重变化表

行业\平均增长速度及比重	1953年	1957年	平均增长速度
农业	52.8%	43.5%	4.5%
轻工业	29.6%	29.2%	12.8%
重工业	17.6%	27.3%	25.4%

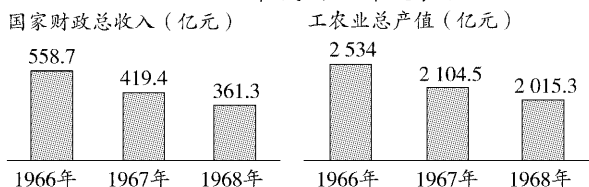
材料二 “鼓足干劲、力争上游、多快好省地建设社会主义”。

——1958年社会主义建设总路线

材料三 中共八大二次会议(1958年)肯定了当时已经出现的“大跃进”形势,并且说中国正在经历着“一天等于20年”的伟大时期。要求缩短赶超英美的时间,争取7年赶上英国,再加8年或者10年赶上美国……要掀起一个“以钢为纲”带动一切的“大跃进”。

——摘编自孙健《中华人民共和国经济史》

材料四 1966—1968年我国经济发展状况



(1)从材料一的图表中可以看出,哪一行业发展最快?(2分)出现这种现象的主要原因是什么?(2分)列举两例说明该行业取得的重大成就。(2分)

(2)根据材料三,概括“大跃进”运动的特点。(2分)结合所学知识指出,你如何正确认识“社会主义建设总路线”和“大跃进”运动?(2分)

(3)根据材料四,你能得出哪些信息?(2分)

(4)综上所述,你认为国家在进行经济建设时应吸取哪些经验或教训?(2分)

23. 阅读下列材料,回答问题。(17分)

材料一 这一天,北京的天气格外晴朗,天安门雄伟壮丽。下午3点,随着中央人民政府秘书长林伯渠宣布典礼开始,五星红旗徐徐升起,礼炮齐鸣,全场沸腾。

材料二 在某次重大纪念活动中,藏民边巴接受记者采访时说:“今天这个日子不寻常,对我们藏族人来说更不寻常。这一件大事,对于国家而言,意味着祖国大陆的统一和边防的巩固;对于藏族百姓而言,意味着旧社会的结束、新生活的开始。”

材料三 我们不出兵让敌人压至鸭绿江边,国内国际反动气焰增高,则对各方都不利,首先是对东北更不利,整个东北边防军将被吸住,南满电力将被控制……总之,我们认为应当参战,必须参战。参战利益极大,不参战损害极大。

——毛泽东

(1)材料一中的“这一天”是哪一天?(2分)

(2)“这一天”升起的五星红旗在哪一次会议上被定为国旗?(2分)该会议的召开与材料一所描述的事件有何联系?(2分)

(3)材料二中的“大事”指什么?(2分)根据材料并结合所学知识,指出这件“大事”的历史意义。(2分)

(4)材料三反映了哪一历史事件?(2分)我们“参战”的结果如何?(2分)这对我国产生了什么影响?(2分)

(5)综合上述材料所反映的内容,请拟一个合适的主题。(1分)

得分	评卷人

三、探究题(15分)

24. 北京,是我国的首都,是全国的政治、经济、文化中心。当掀开北京历史的篇章时,你会发现它记载着中国的沧桑巨变。

【屈辱篇】


(1)结合所学知识,把发生在北京的屈辱历史补充完整。(6分)

时间	史实
1860年	英法联军火烧①_____ ,犯下滔天罪行
1900年	签订②_____ ,中国完全沦为半殖民地半封建社会
1937年	日本发动③_____ 事变,全面侵华开始

【转折篇】



五四运动



人民群众在天安门广场欢庆新中国的诞生

(2)结合所学知识指出,上述图片反映的发生在北京的历史事件,为什么被称为“中国历史的伟大转折”?(4分)

【巨变篇】



工商业实现全行业公私合营后,工商界代表向党中央和毛主席报喜



第一届全国人民代表大会

(3)如何理解上述图片所反映的历史事件给中国带来的巨大“变化”?(4分)

【感悟篇】

(4)综上所述,从近现代北京的沧桑巨变中,你能得出哪些启示或感悟?(1分)

第一单元 根本卷

一、单项选择题

1—5 DADCC 6—10 ADABB 11—15 CCADA 16—20 BBBCC

二、材料题

21. (1)文成公主入藏;(2分)唐与吐蕃会盟。(2分)
(2)办法:向西藏进军;力争和平解放西藏。(每点2分,共4分)
结果:1951年,西藏实现了和平解放。(2分)意义:标志祖国大陆获得统一,各族人民实现了大团结。(2分)
(3)①中央人民政府从西藏的历史和现实出发,希望和平解放西藏。②西藏人民拥护中国共产党和中央人民政府,渴望和平解放。③西藏地方政府和中央人民政府坦诚谈判和沟通。④中国人民解放军的军事支持。(任答3点,即得3分)
22. (1)以美军为主的所谓“联合国军”入侵朝鲜,并把战火烧到中国东北边境,严重威胁中国的安全;朝鲜民主主义人民共和国请求中国政府派兵援助。(4分)
(2)彭德怀。(2分)中国人民志愿军。(2分)
(3)中朝军民的共同努力;全国人民的大力支持;这是一场正义的反侵略战争。(任答两点,即得4分)抗美援朝战争的胜利,为我国经济建设赢得了—个相对稳定的和平环境,大大提高了我国的国际地位。(2分)
(4)高度的爱国主义、革命英雄主义和国际主义精神。(1分)
23. (1)洋务运动、戊戌变法、辛亥革命等。(3分)中华人民共和国成立。(1分)
(2)表达了中国人民在中国共产党的领导下,推翻了帝国主义、封建主义和官僚资本主义的统治,开辟了中国历史的新纪元。中国真正成为独立自主的国家,中国人民从此扬眉吐气了。(2分)
(3)土地改革和抗美援朝战争。(2分)人民政权的巩固。(2分)

第一单元 上分卷

一、单项选择题

1—5 ACCAA 6—10 DDCBA 11—15 ACBDC 16—20 BDAAB

二、材料题

21. (1)通过了《中国人民政治协商会议共同纲领》;确定新中国的首都为北京;采用公元纪年;以《义勇军进行曲》为代国歌;确定五星红旗为国旗;选举中央人民政府委员会。(任答两点,即得2分)中国人民政治协商会议的成功召开,初步建立了中国共产党领导的多党合作和政治协商制度,为新中国的成立作了准备。(1分)
(2)标志着中华人民共和国的成立,开辟了中国历史的新纪元;中国真正成为独立自主的国家,占人类总数四分之一的中国人从此站起来了;壮大了世界和平民主和社会主义的力量。(应答出国内、国际两方面的影响,4分)
(3)“帝国主义”指美国,“邻人”指朝鲜。(2分)措施:中央决定以彭德怀为司令员的中国人民志愿军开赴朝鲜前线,同朝鲜军民一起抗击美国侵略者。(2分)结果:1953年7月,美国被迫在停战协定上签字,中朝人民取得反侵略战争的胜利。(2分)
(4)中国人民政治协商会议第一届全体会议的召开,为新中国的成立作了重要的准备工作。1949年10月1日,开国大典的隆重举行,标志着中华人民共和国成立,人民政权建立。抗美援朝战争的胜利,为我国的经济建设赢得—个相对稳定的和平环境,极大地巩固了新生的人民政权。(2分)
22. (1)地主阶级封建剥削的土地制度。(2分)使农村存在大量无地或少地的农民,严重阻碍了农村经济和中国社会的发展。(2分)中央决定在广大新解放区进行土地改革。(2分)

- (2)《中华人民共和国土地改革法》。(2分)直接目的是发展农业生产,为新中国的工业化开辟道路。(2分)根本目的是改变农村土地所有制,解放和发展生产力。(2分)
(3)土地改革的完成,彻底摧毁了我国存在2 000多年的封建土地制度,消灭了地主阶级;农民翻了身,得到了土地,成为土地的主人。这使人民政权更加巩固,也大大解放了农村生产力。农业生产获得迅速恢复和发展,为国家的工业化建设准备了条件。(3分)

三、探究题

23. (1)1900年八国联军侵华,清政府战败,被迫签订《辛丑条约》,中国完全沦为半殖民地半封建社会。(2分)
(2)推翻了清王朝的反动统治,宣告了中国两千多年君主专制制度的终结。(2分)抗日战争的胜利。(1分)
(3)中华人民共和国成立。(1分)结束了一百多年被侵略被奴役的屈辱历史,中国真正成为独立自主的国家。(2分)
(4)如:奥运赛场上中国运动员夺冠,升起五星红旗;国庆阅兵仪式上升起五星红旗。(2分,言之有理即可)

第二单元 根本卷

一、单项选择题

1—5 ADDBA 6—10 CBABD 11—15 BDCDB 16—20 CDDDC

二、材料题

21. (1)中华人民共和国成立初期我国人均钢产量及发电量远低于美国,甚至低于印度。(1分)
对策:从1953年开始执行发展国民经济的第一个五年计划,集中主要力量发展重工业。(2分)
(2)侧重点:集中主要力量发展重工业。(2分)
原因:我国重工业基础极为薄弱;经济独立和国防建设的需要;帝国主义国家的威胁;借鉴苏联的工业化建设经验。(任答两点,即得2分)
(3)原因:“—五”计划大幅度超额完成;计划经济体制建立;抗美援朝取得胜利,为我国的经济建设提供了相对稳定的和平环境;土地改革的完成,为国家的工业化建设准备了条件;等等。(任答—点,即得1分)
成就:鞍山钢铁公司无缝钢管厂等三大工程、长春第一汽车制造厂、沈阳第一机床厂和飞机制造厂等建成投产,新建宝成、鹰厦等铁路30余条,川藏、青藏、新藏公路相继通车,武汉长江大桥建成。(任答3点,即得3分)
- (4)第一届全国人民代表大会。(1分)有效信息:此次选举的形式为普选,为全国人民代表大会制度奠定了政治基础。(1分)
(5)性质:我国第一部社会主义类型的宪法。(1分)影响:以国家根本大法的形式确定了人民代表大会制度,为社会主义民主政治建设奠定了基础。(1分)
22. (1)对农业进行社会主义改造的背景:土地改革后的农业生产方式无法满足国家工业化的需要。(2分)对农业进行社会主义改造的形式:成立农业生产合作社,走集体化和共同富裕的社会主义道路。(2分)
(2)原因:我国在工业化建设初期,轻工业还远不能满足人民日益增长的需要。(2分)
改造方式:经过合作化的道路,逐步将其改造为集体所有制,组织手工业生产合作社。(2分)
(3)现象:1953—1958年,我国粮食产量迅速增长。(1分)
原因:实行农业生产合作社,调动了农民的生产积极性,解放了农村生产力,促进了粮食产量的提高。(2分)
(4)方式:公私合营;和平赎买。(2分)
相同之处:实质——变革生产关系,由生产资料私有制向社会主义公有制转变;影响——都调动了人民的生产积极性,都解放了生产力,促进社会发展,使我国进入社会主义初级阶段。(2分)

三、探究题

23. (1)社会调查,查阅新中国成立的相关报纸、档案,采访参与开国大典相关人物等。(2分)
(2)信息:1957—1965年,我国经济的增长速度经历由下滑甚至负增长到恢复发展的转变。(2分)
原因:“大跃进”和人民公社化运动和当时自然灾害严重等因素,造成我国在1959—1961年国民经济发生严重困难,中共中央于1961年实行“调整、巩固、充实、提高”的八字方针后,我国经济逐渐得到恢复和发展。(2分)
(3)不怕困难、不畏艰险、敢为天下先、艰苦创业、无私奉献的精神。(2分)
(4)坚持以经济建设为中心;坚持并完善社会主义民主政治建设;坚持依法治国;等等。(2分,言之有理即可)

第二单元 上分卷

一、单项选择题

1—5 AADAD 6—10 ABBBB 11—15 BDCAB 16—20 BDBDD

二、材料题

21. (1)困境:工业基础尤其是重工业基础薄弱,重要工业品人均拥有量远远低于发达国家。(2分)
关系:只有钢铁等基础工业发展了,轻工业的装备才能保证,进而才能改变我国落后的经济状况。(2分)
(2)1953年,我国开始执行第一个五年计划,集中主要力量发展重工业,导致城市人口和就业人数剧增,农业发展相对滞后;部分地区遭受严重的自然灾害;粮、棉等农产品供求关系紧张,人民的正常生活受到影响。(任答3点,即得3分)
(3)主要集中在东北地区。(1分)
(4)起到临时宪法的作用,促进了我国民主政治的进一步发展。(2分)
(5)优越性:人大代表具有广泛性;表达全国人民的意志,照顾到不同地区和不同民族的历史特点,照顾到不同阶级和不同阶层的特殊利益和要求。(2分)
贡献:制定了我国第一部社会主义类型的宪法——《中华人民共和国宪法》,并且确立了我国的根本政治制度,为社会主义民主政治建设奠定了基础。(3分)
22. (1)“两个根本矛盾”:有计划地大量增产的要求和小农经济分散私有的性质以及农业技术的落后性质之间的矛盾。(2分)
解决方法:实行社会革命,即农业合作化;实行技术革命,即在农业中逐步使用机器和实行其他技术改革。(2分)
(2)铁制品手工业者、木业手工业者。(2分)
作用:提高了技术,能更好地为农民服务。(2分)
(3)变化:全民所有制经济、集体所有制经济、公私合营经济均大幅提高,并成为我国主要经济形式;私营资本主义经济消失,个体经济大幅度下降。(2分)
原因:1953—1956年实行社会主义改造,完成了生产资料私有制向社会主义公有制的转变。(2分)
(4)评价:存在要求过急、工作过粗、改变过快、形式也过于简单划—以及对—部分原工商业者的使用和处理也不很适当的问题。(2分)
标准:①是否顺应历史发展潮流;②是否推动生产力(或经济)的发展;③是否符合人民的长远利益和愿望;④采用辩证的方法、发展变化的观点;等等。(任答两点,即得1分,言之有理即可)

- 三、探究题
23. (1)实物史料:①③ 文献史料:④⑤ 口述史料:②(每个1分,共3分)
(2)巩固新生的人民政权,为国家的工业化建设创造有利条件(1分)
(3)新中国的民主政治和经济建设。(1分)
(4)1956年底,三大改造基本完成,标志着我国进入社会主义初级阶段;1957年底,“—五”计划的各项经济建设指标大幅度超额完成。这两项成就极大地鼓舞了中国人民的建设斗志与热情。1958年,中共八大二次会议提出“鼓足干劲、力争上游、多快好省地建设社会主义”的总路线,全国掀起“大跃进”和人民公社化运动,再加上自然灾害严重等因素,1959—1961年,我国的国民经济发生严重困难。后来中共中央提出“调整、巩固、充实、提高”的八字方针,使得国民经济逐渐得到恢复和发展。1966—1976年的“文化大革命”使国民经济遭到严重破坏,同时还践踏了民主法制,这些曲折和失误给我们留下许多教训。在探索时期我国经济和科技建设仍然取得—定成绩,包括原油和石油产品实现全部自给、工业布局明显改善、交通运输业得到发展、水利建设取得很大成绩等。探索时期的社会主义建设事业充满曲折,也使得我国经济建设吸取要遵循客观规律的教训。(史论结合、有理有据即可得4分)
- (5)经济发展要遵循客观的经济规律,要坚持—切从实际出发,实事求是的原则等。(1分,言之有理即可)

第一次 月考卷

一、单项选择题

1—5 BCCDA 6—10 BCBCC 11—15 BCDDB 16—20 DDDCB

二、材料题

21. (1)《中华人民共和国土地改革法》。(2分)图1土地改革的完成,大大解放了农村生产力,促进了农村经济的恢复和发展,为图2新中国的工业化建设准备了条件。(2分)
(2)把分散的个体农民组织起来,引导他们参加农业生产合作社,走集体化和共同富裕的社会主义道路。(2分)从农民的土地所有制转变为社会主义公有制。(2分)
(3)“大跃进”和人民公社化运动挫伤了农民的生产积极性,阻碍了农村生产力的发展。(2分)中共中央开始调整国民经济,提出了“调整、巩固、充实、提高”的八字方针。(2分)
(4)农业政策是否符合客观的经济发展规律,农民的生产积极性是否高涨。(2分)
22. (1)重工业。(2分)1953年,我国开始执行第一个五年计划,集中主要力量发展重工业。(2分)鞍山钢铁公司无缝钢管厂等三大工程建成投产;1956年,长春第一汽车制造厂生产出我国第一辆解放牌汽车;1956年,我国第一个制造机床的工厂——沈阳第一机床厂建成投产。(任答两例,即得2分)
(2)急于求成,片面追求高速度。(2分)“社会主义建设总路线”和“大跃进”运动反映了人民群众迫切要求改变我国经济落后状况的愿望,但急于求成,忽视了客观的经济规律,给国民经济带来严重的破坏和灾难。(2分,从两方面分析即可)
(3)1966—1968年,我国财政总收入和工农业总产值均呈现下降的趋势;“文化大革命”使我国的国民经济遭到巨大损失。(2分)
(4)要—切从实际出发,实事求是;国民经济比例要协调发展;要遵循客观的经济发展规律;要坚持以经济建设为中心;等等。(2分)
23. (1)1949年10月1日。(2分)
(2)中国人民政治协商会议第一届全体会议。(2分)中国人民政治协商会议第一届全体会议的召开,为材料—中新中国的成立作了重要的准备工作。(2分)
(3)西藏和平解放。(2分)标志着祖国大陆获得统一,各族人民实现了大团结,藏族人民开始了新生活。(2分)
(4)抗美援朝战争。(2分)1953年7月,美国被迫在停战协定上签字,中朝人民取得了抗美援朝战争的胜利。(2分)抗美援朝战争的胜利,为我国的经济建设赢得—个相对稳定的和平环境,大大提高了我国的国际地位。(2分)
(5)人民政权的建立与巩固。(1分)

- 三、探究题
24. (1)①圆明园 ②《辛丑条约》 ③七七或卢沟桥(每个2分,共6分)
(2)五四运动是中国新民主主义革命的开端。(2分)开国大典的隆重举行,标志着中华人民共和国的成立,开辟了中国历史的新纪元。中国人民经过—百多年的英勇斗争,终于推翻了帝国主义、封建主义和官僚资本主义的统治;中国真正成为独立自主的国家,占人类总数四分之一的中国人从此站起来了。(2分)
(3)“工商业实现全行业公私合营后,工商界代表向党中央和毛主席报喜”反映的是1956年底三大改造的基本完成,标志着我国实现了生产资料私有制向社会主义公有制的转变,社会主义基本制度在我国建立起来,我国从此进入社会主义初级阶段。这是中国历史上最深刻的社会变革。(2分)1954年第一届全国人民代表大会在北京召开,制定了我国第一部社会主义类型的宪法——《中华人民共和国宪法》;以国家根本大法的形式确立了人民代表大会制度。人民代表大会制度是我国的根本政治制度,为社会主义民主政治建设奠定了基础。(2分)
(4)落后就要挨打;只有中国共产党才能救中国,只有中国共产党才能发展中国。(1分)

第三单元 根本卷

一、单项选择题

1—5 BCCDC 6—10 BDBCD 11—15 BDCCB 16—20 CBDCC

二、材料题

21. (1)变化:粮食产量提高,人民生活改善。(2分)
主要原因:实行了家庭联产承包责任制(或实行分田包干到户,自负盈亏)。(2分)
(2)邓小平。(1分)邓小平的南方谈话。(2分)进一步解放了人们的思想,推动改革开放和社会主义现代化建设进入新阶段,对建设中国特色社会主义产生了深远影响。(2分)